

Größen und Messen

Wandertag (Schuljahrgang 2)

Die Kinder der Klasse 2 a freuen sich schon auf ihren Wandertag am 24. Mai 2007.

1. Heute tragen die Kinder das Datum des Wandertages in ihr Hausaufgabenheft ein.

Zu Hause macht Lisa ein Kreuz an den Kalender, damit die Familie den Wandertag nicht vergisst.

a) Mache es wie Lisa und kreuze den Tag im Kalender an. (AFB I)

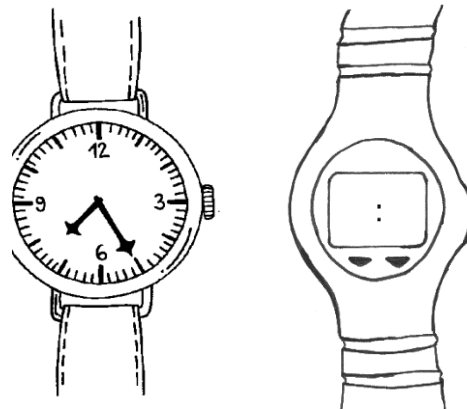
Mai 2007						
Montag	Dienstag	Mittwoch	Donnerstag	Freitag	Samstag	Sonntag
	1	2	3	4	5	6
7	8	9	10	11	12	13
14	15	16	17	18	19	20
21	22	23	24	25	26	27
28	29	30	31			

b) An welchem Wochentag findet der Wandertag statt? (AFB I)

c) Bei schlechtem Wetter will die Lehrerin den Wandertag um genau eine Woche verschieben. Kreise diesen Tag im Kalender ein und schreibe das Datum auf. (AFB I)

2. Endlich ist es soweit. Heute ist der Wandertag. 8.00 Uhr sollen alle Kinder auf dem Schulhof sein. Max und Lisa sind schon ganz aufgeregt. Auf dem Weg zur Schule schaut Lisa auf ihre Uhr.

a) Max vergleicht mit seiner Digitaluhr. Sie zeigt genau die gleiche Zeit an. Beschrifte die Anzeige seiner Uhr. (AFB I)



b) Die Kinder streiten sich. Kreuze die richtigen Antworten an. (AFB II)

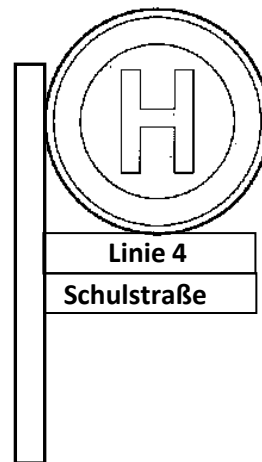
- Wir haben noch mehr als eine halbe Stunde Zeit.
- Wir haben weniger als eine halbe Stunde Zeit.
- Wir haben noch genau eine Viertelstunde Zeit.
- Wir haben noch eine Dreiviertelstunde Zeit.
- Wir haben 10 Minuten weniger als eine Dreiviertelstunde Zeit.
- In fünf Minuten haben wir immer noch eine halbe Stunde Zeit.

c) Wie viel Zeit haben die Kinder noch bis zum verabredeten Zeitpunkt? (AFB II)

d) Max und Lisa beeilen sich auf dem Weg zur Schule. Sie sind 10 Minuten vor dem vereinbarten Zeitpunkt auf dem Schulhof. Wie spät ist es, als sie ankommen? (AFB II)


3. Die Kinder sind 8.15 Uhr mit ihrer Lehrerin an der Bushaltestelle „Schulstraße“. Sie müssen mit der Linie 4 bis zur Haltestelle „Zoo“ fahren. Die Fahrt dauert 26 Minuten. Sieh dir den Fahrplan genau an.

a) Wie lange müssen die Kinder noch auf den Bus warten? (AFB II)



Fahrplan Linie 4 - Schulstraße								
Uhr	Montag - Freitag				Sonnabend		Sonn- und Feiertag	
6		24		54				
7		24		39	54			
8	09	24		39	54	03	33	
9	09	24		39		03	33	03 33
10	09	39				03	33	03 33
11	09	39				24		03 33
12	09	39				24		24
13	09	39				24		24
14	09	39				24		24

5. Lisa und Max möchten sich im Zoo ein Andenken kaufen.



a) Max hat einen 5-Euro-Schein vom Opa und eine 2-Euro-Münze von seiner Mutter für den Wandertag bekommen. Aus seiner Spardose nimmt er noch eine 2-Euro-Münze mit. Er kauft den Stoffaffen.

Finde verschiedene Möglichkeiten, wie er den Affen bezahlen kann. Wie viel Geld bekommt er jeweils zurück? (AFB II)

b) Lisa hat diese Münzen in ihrer Geldbörse.



Sie möchte die Giraffe kaufen. Reicht ihr Geld? Begründe deine Antwort. (AFB II)